

МОСКОВСКАЯ ОЛИМПИАДА ШКОЛЬНИКОВ
ПО ИСТОРИИ. 2018–2019 уч. г.
ДИСТАНЦИОННЫЙ ЭТАП. 6 КЛАСС

Часть А.

Вопрос 1.

Выберите один верный вариант ответа
Рассмотрите изображение и выполните задание.



Укажите фразу, которая, по преданию, была произнесена в изображённый на картине момент.

- 1) Слава, Цезарь! Идущие на смерть приветствуют тебя!
- 2) Склони свою выю, гордый сикамбр! Сожги то, чему поклонялся, и поклонись тому, что сжигал.
- 3) Горе побеждённым!
- 4) Весь мир не стоит того, чтобы иметь двух царей.

Вопрос 2.



На картине Караваджо изображён бог, существовавший в греческой и римской мифологии, но под разными именами. Отметьте то имя, которое **НЕ** относится к этому богу.

- 1) Вакх
- 2) Гименей
- 3) Бахус
- 4) Дионис

Вопрос 3.

Рассмотрите представленные ниже изображения и выберите те из них, которые относятся к одному и тому же событию.

1)



2)



3)



4)



Вопрос.4.



Представленный на изображении символ часто в современном мире используют, как украшение, но в древности только правитель мог носить этот символ в знак могущества и власти. Укажите его название.

- 1) Египетский крест анх
- 2) Андреевский крест
- 3) Голгофский крест
- 4) коловорот

Вопрос 5.

Вам представлен фрагмент картины русского художника К. Брюллова выберите из предложенного списка название картины.



- 1) «Последний день Помпеи»

- 2) «Погибель Вавилона»
- 3) «Падение Рима»
- 4) «Гибель Трои»

Вопрос.6.

К иллюстрации в вопросе № 5.

Опираясь на исторические знания, укажите, что стало причиной гибели города, которому посвящена картина К. Брюллова.

- 1) ураган
- 2) смерч
- 3) цунами
- 4) извержение вулкана

Вопрос.7.

Рассмотрите изображение и выберите верные утверждения.



- 1) На картине изображена попытка повалить статую древнегреческого бога.
- 2) Изображёнными на картине действиями руководил Архимед.
- 3) Показанные на картине события произошли во время войны между персами и греками.
- 4) Герой древнегреческих легенд Одиссей участвовал в событиях, отражённых на данной картине.
- 5) Руины изображённого на картине города были обнаружены археологами в XIX в.

Вопрос.8.

Рассмотрите картину и укажите, какие богини – три сестры – на ней изображены.



Выберите несколько правильных ответов.

Вопрос.9.

Что из перечисленного относится к описанным в Библии «Казням египетским»?

- 1) нашествие жаб
- 2) нашествие гиксосов
- 3) нашествие пёсжих мух
- 4) нашествие нубийцев и взятие Гермополя
- 5) разверзшееся Красное море
- 6) превращение воды Нила в кровь

Вопрос.10.



Кто из перечисленных исторических деятелей жил во время существования чуда света, изображённого на иллюстрации?

- 1) Юлий Цезарь
- 2) Хлодвиг
- 3) Тарквиний Гордый
- 4) Тутмос III
- 5) Юстиниан I Великий
- 6) Кир Великий

Вопрос.11.

Какие группы населения упоминаются в «Салической правде»?

- 1) илоты
- 2) метеки
- 3) рыцари
- 4) графы
- 5) королевские дружинники
- 6) королевские рабы

Вопрос.12

Какие из указанных произведений культуры связаны с историей Древнего Востока?

- 1) Повесть «Суламифь» А.И. Куприна
- 2) Трагедия «Электра» Софокла
- 3) Песня исполняемая Луи Армстронгом «Let my people go»
- 4) Аккадская поэма «О всё выдавшем»
- 5) Опера-оратория «Царь Эдип» И.Ф. Стравинского
- 6) Эпическая поэма «Беовульф»

Вопрос.13

Расставьте события в верной хронологической последовательности.

1. Начало крещения Польши
2. Правление Юлиана Отступника
3. Строительство храма святой Софии в Константинополе
4. Строительство храма святой Софии в Новгороде Великом
5. Раздел Римской империи на Западную и Восточную
6. Начало иконоборчества в Византии

Расположите понятия, термины, аббревиатуры в хронологической последовательности их появления.

1. «датские деньги»
2. арианство
3. принцепс
4. доминат
- 5.SPQR
6. викинги


Вопрос.15


Расположите исторические периоды (эпохи) из истории различных стран в хронологической последовательности их существования.

1. Амарнский период
2. «Шумерский реннесанс»
3. «Птолемеевский Египет»
4. Эпоха «Тёмных веков» в Греции
5. Эпоха «Солдатских императоров»
6. Каролингское возрождение

Вопрос.16

Вашему вниманию представлены гербы средневековых государств, располагавшихся на территории одного европейского полуострова. Укажите название полуострова, определите государства по представленным гербам и запишите их названия.





Часть Б.

Вопрос 1.

Вашему вниманию представлены изображения четырёх исторических или литературных персонажей, относящихся к русской книжной и фольклорной традиции, которая связывает их всех с одним городом. Назовите представленных персонажей и укажите название города, с которым их связывает русская книжная и фольклорная традиция. Замена картинки 2

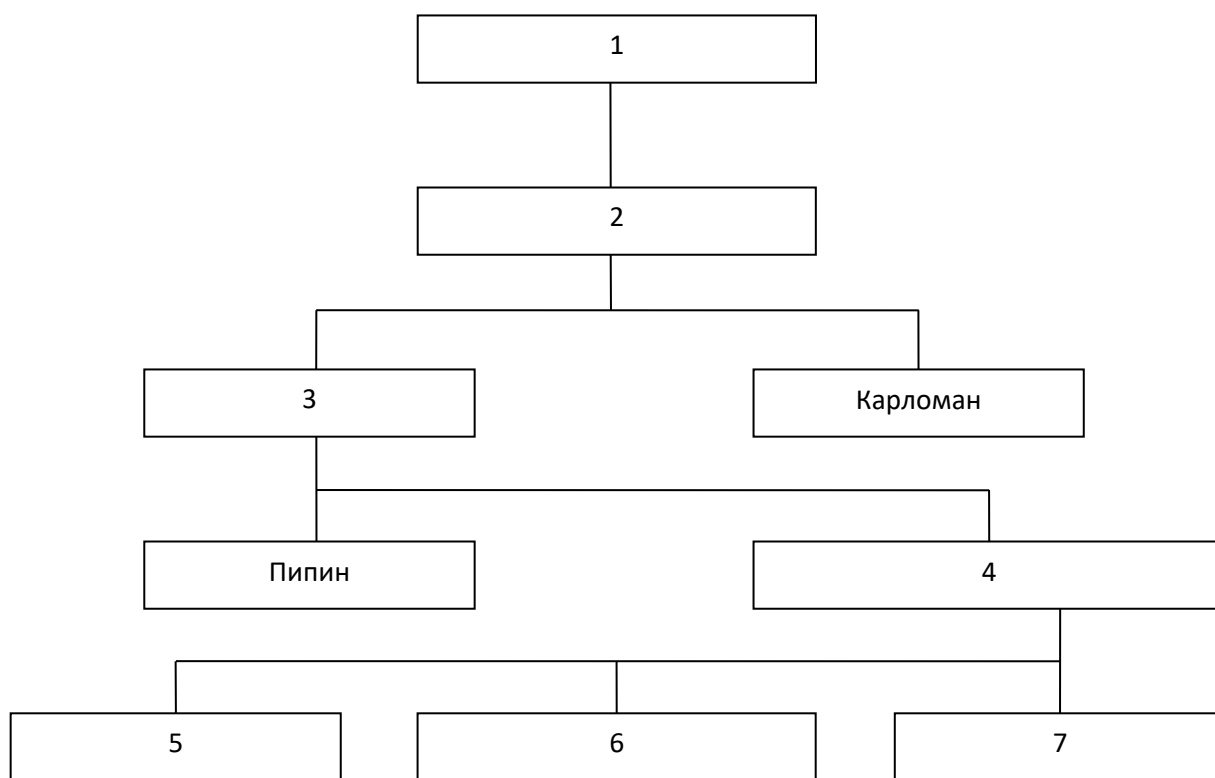


Назовите изображённых деятелей.

№ иллюстрации	Имена персонажей
1	
2	
3	

Вопрос 2.

Заполните пропуски в генеалогической таблице:



Вопрос 3.

Прочитайте текст и выполните задания.

«Галлия по всей своей совокупности разделяется на три части. В одной из них живут бельги, в другой – аквитаны, в третьей – те племена, которые на их собственном языке называются кельтами, а на нашем – галлами. Все они отличаются друг от друга особым языком, учреждениями и законами. Галлов отделяет от аквитанов река Гарумна, а от бельгов – Матрона и Секвана. Самые храбрые из них – бельги, так как они живут дальше всех других от **Провинции с ее культурной и просвещенной жизнью**; кроме того, у них крайне редко бывают купцы, особенно с такими вещами, которые влекут за собою изнеженность духа; наконец, они живут в ближайшем соседстве с зарейнскими германцами, с которыми ведут непрерывные войны. По этой же причине и гельветы превосходят остальных галлов храбростью: они почти ежедневно сражаются с германцами, либо отбивая их вторжения в свою страну, либо воюя на их территории. Та часть, которую, как мы сказали, занимают галлы, начинается у реки Родана, и ее границами служат река Гарумна, Океан и страна бельгов; но со стороны секванов и гельветов она примыкает также к реке Рейну. Она тянется к северу. Страна бельгов начинается у самой дальней границы Галлии и доходит до Нижнего Рейна. Она обращена на северо-восток. Аквитания идет от реки Гарумны до Пиренейских гор и до той части Океана, которая омывает Испанию. Она лежит на северо-запад»

Определите автора представленного текста.

Вопрос 4.

К тексту из вопроса № 3.

В составе какого крупного государства, современного автору, находилась упомянута в тексте

Вопрос 5.

К тексту из вопроса № 3.

На что в первую очередь обращал внимание автор при описании народов? Приведите два аспекта, выделяемых автором относительно описываемых народов.

Вопрос 6.

К тексту из вопроса № 3.

В тексте противоречиво утверждается, что «самыми храбрыми» являются бельги и гельветы. Приведите по одному положению, подтверждающему храбрость каждого из представленных народов.

Вопрос 7.

К тексту из вопроса № 3.

Укажите любые два современных государства, на территории которых жили народы, описанные в отрывке.